

Texto 1

Régua baixa na governança, régua alta na punição

1.º§ Já faz tempo que não vou a Berlim. Há mais tempo do que eu gostaria, na verdade. A cidade é bonita, respira história e tem uma vida cultural e artística vibrante. Tirando esses ótimos atrativos para um turista, outra coisa que me chamou a atenção quando visitei a cidade pela primeira vez, ainda em 2011, foi que o metrô não tinha catracas. As pessoas compravam seus passes ou bilhetes, validavam nas máquinas na hora de usar e estava tudo resolvido. Foi algo chocante para mim. Mas como assim? Se deixar desse jeito ninguém vai pagar, pensou o jovem brasileiro, acostumado com catracas de ônibus que iam praticamente até o chão para tentar sacrificar aqueles que queriam passar por baixo. A maneira de obrigar o usuário do transporte público a pagar, em Berlim, estava e ainda está no risco de multa caso um fiscal encontrasse o passageiro sem o tíquete validado. Nas diversas vezes em que usei o metrô, não cruzei com nenhum fiscal. Certamente havia quem não pagasse, mas habitualmente via as pessoas validando seus tíquetes. Seja por uma questão cultural de respeito às regras e/ou por medo da punição, o sistema me pareceu funcionar por lá.

2.º§ Há experiências semelhantes em jardins e parques. Em alguns países basta que se coloque uma placa "não pise na grama". Em outros, é preciso colocar grades e, ainda assim, elas podem ser quebradas, e a grama, pisoteada.

3.º§ Mesmo outras grandes cidades de países mais desenvolvidos que o Brasil não se aventuraram pelo modelo de confiança adotado em Berlim. É coisa para poucos.

Administração | Ciências Econômicas | Ciências Contábeis

4.º§ E trato do tema neste espaço porque, como se sabe, a questão cultural, com seus ônus e bônus, vai além dos hábitos de pagamento de transporte público e cuidado com a grama. Ela chega também a questões empresariais. Se no Japão um executivo pego em transações escusas pode considerar o suicídio por vergonha, em alguns países (me disseram) isso é tratado com naturalidade e “vida que segue”. Há também a questão da “oportunidade”. Se o dito popular diz que o ladrão pode ser estimulado pela ocasião, o abuso de poder de controle em companhias abertas, para citar um caso do direito societário, tende a ser mais comum em um mercado em que há mais empresas com controladores do que quando o capital acionário é pulverizado. Da mesma forma, há mais chance de haver voto com conflito de interesses quando há acionistas com poderes e direitos distintos ou quando algum acionista também tem outros papéis na história – por exemplo, quando é diretor ou conselheiro da empresa ou quando tem dívida na holding que controla a empresa operacional.

5.º§ No Brasil, arrisco dizer que um sistema de metrô sem catraca não seria atrativo do ponto de vista comercial. Mas há parte da doutrina jurídica, agora majoritária em instituição financeira, que acha que podemos confiar na boa fé de controladores de empresas abertas no Brasil. Não é um passe livre para eles cometerem abusos, sustentam os que defendem a tese. Essa corrente acredita que a potencial anulação futura de decisões em assembleias, combinada com risco de punição em julgamentos administrativos ou judiciais, é suficiente para inibir o voto em conflito ou abuso de poder.

Administração | Ciências Econômicas | Ciências Contábeis

Gostaria de ter essa mesma fé – seja nos agentes de mercado, seja no sistema de fiscalização. Chamo de fé porque seria acreditar em algo que não vejo (ou pelo menos não tanto).

Fernando Torres. Adaptado de Valor Econômico, 24 de agosto de 2022.

■ QUESTÃO 01

No texto, o autor discute um princípio de organização da vida social, que se baseia em:

certeza.

empatia.

gentileza.

confiança.

■ QUESTÃO 02

Analisando a construção temática do texto, a menção ao transporte público se justifica por:

contrapor aspectos psicológicos à realidade material.

indicar área de maior impacto sobre a atividade econômica.

relacionar comportamento comum com atitudes corporativas.

apresentar razões para o agravamento do subdesenvolvimento.

■ QUESTÃO 03

No texto, o autor se refere à situação de voto com interesse conflitante.

Um dos motivos apresentados por ele para que haja essa situação reside em:

acúmulo de atividades.

atratividade das ações.

experiência das equipes.

antiguidade das empresas.

Administração | Ciências Econômicas | Ciências Contábeis

■ QUESTÃO 04

Em duas passagens do texto, o autor introduz comentários entre parênteses.

Esses comentários têm o objetivo de:

construir distanciamento em relação a comportamentos.

reforçar o pertencimento cultural de matriz europeia.

sugerir universalidade de um tipo de hábito comum.

indicar a necessidade de um afeto de generosidade.

■ QUESTÃO 05

"E trato do tema neste espaço porque, como se sabe..." (4.º§)

O uso da expressão destacada assume a função textual de:

apontar consequências.

contrapor uma condição.

generalizar uma reflexão.

comparar nacionalidades.

■ QUESTÃO 06

No quinto parágrafo, a contraposição construída entre as duas primeiras frases contribui com a produção, no contexto, de um tom:

irônico.

assertivo.

imperativo.

hipotético.

Administração | Ciências Econômicas | Ciências Contábeis

■ QUESTÃO 07

"A maneira de obrigar o usuário do transporte público a pagar, em Berlim, estava e ainda está no risco de multa caso um fiscal encontrasse o passageiro sem o tíquete validado. Nas diversas vezes em que usei o metrô não cruzei com nenhum fiscal." (1º§)

O segundo período estabelece com o primeiro uma relação de:

condição.

comparação.

consequência.

contraposição.

■ QUESTÃO 08

"... que acha que podemos confiar..." (5.º§)

No trecho, cada uma das ocorrências da palavra "que" pode ser classificada como:

interjeição / pronome indefinido.

conjunção explicativa / advérbio.

pronome interrogativo / preposição.

pronome relativo / conjunção integrante.

Texto 2

A maçã da consciência de si

1.º§ O labrador dourado saltando com a criança na grama; o balé acrobático do sagui; a liberdade alada da arara-azul cortando o céu sem nuvens – quem nunca sentiu inveja dos animais que não sabem para que vivem nem sabem

Administração | Ciências Econômicas | Ciências Contábeis

que não o sabem? Inveja dos seres que não sentem continuamente a falta do que não existe; que não se exaurem e gemem sobre a sua condição; que não se deitam insones e choram pelos seus desacertos; que não se perdem nos labirintos da culpa e do desejo; que não castigam seus corpos nem negam os seus desejos; que não matam os seus semelhantes movidos por miragens; que não se deixam enlouquecer pela mania de possuir coisas? O ônus da vida consciente de si desperta no animal humano a nostalgia do simples existir: o desejo intermitente de retornar a uma condição anterior à conquista da consciência.

2.º§

A empresa, contudo, padece de uma contradição fatal. A intenção de se livrar da autoconsciência visando a completa imersão no fluxo espontâneo e irrefletido da vida pressupõe uma aguda consciência de si por parte de quem a alimenta. Ela é como o fruto tardio sonhando em retornar à semente da qual veio o galho. O paradoxo é análogo ao do poeta heterônimo Alberto Caeiro quando afirma que “pensar em Deus é desobedecer a Deus” – e, desse modo, a Ele desobedece! O desejo de saltar para aquém do cárcere do pensar se pode compreender – e até cultivar – em certa medida, mas o lado de fora não há. A consciência é irreparável; dela, como do tempo, ninguém torna atrás ou se desfaz. Desmorder a maçã não existe como opção.

Administração | Ciências Econômicas | Ciências Contábeis

■ QUESTÃO 09

"... que não o sabem?" (1º §)

O pronome "o", no trecho, retoma a seguinte expressão:

"quem nunca".

"inveja dos animais".

"não sabem".

"para que vivem".**■ QUESTÃO 10**

"... que não se exaurem" (1.º§)

A palavra "exaurem" pode ser substituída por:

cansam.

exploram.

distanciam.

incomodam.

■ QUESTÃO 11

A menção à "maçã", presente no título, pretende remeter à imagem relativa a:

bem que não se pode possuir.

horizonte que não se pode realizar.

crença que não se consegue formular.

algo de que não se consegue desfazer.

Administração | Ciências Econômicas | Ciências Contábeis

■ QUESTÃO 12

Um efeito indesejado do autoconhecimento, segundo o texto, reside no sentimento de:

desesperança.

nostalgia.

ganância.

egoísmo.

■ QUESTÃO 13

No primeiro parágrafo, as cenas protagonizadas pelos animais constroem um:

objeto do desejo.

retorno às origens.

ideal de satisfação.

desprendimento radical.

■ QUESTÃO 14

A "contradição fatal" indicada pelo texto se refere ao fato de:

a crítica à evolução da humanidade ser elaborada por humanos.

o ímpeto de se comparar a um animal ser formulado por pessoas.

a vida em sociedade ser compartilhada entre humanos e animais.

o desejo de retornar à pré-consciência ser uma reflexão consciente.

Administração | Ciências Econômicas | Ciências Contábeis

■ QUESTÃO 15

A menção ao poeta tem o propósito de:

contradizer a ideia central.

exemplificar um raciocínio.

expor uma consequência.

generalizar uma tese.

TEXTO DE APOIO

Encontramos com frequência, na clínica, pais e mães que afirmam não conseguir impor limites a seus filhos porque "eles não deixam". São adultos desnorteados, que desconhecem os fundamentos simbólicos de sua autoridade. Dizer a uma criança – "eu não permito que você faça tal ou tal coisa" é um ato performático de linguagem que não precisa ser justificado, nem pode se sustentar com base em chantagens e ameaças. Nada funda este ato a não ser a profunda convicção, por parte do adulto, de sua responsabilidade em relação à criança – e nada garante também que ele não seja injusto. Educar, no contexto contemporâneo, é assumir riscos ante a geração seguinte. É claro que, na adolescência dos filhos, os riscos assumidos pelos pais serão cobrados – mais uma vez, nem sempre de forma justa. Mas, é possível responder à cobrança adolescente a partir do lugar da responsabilidade: "eu assumi o encargo de cuidar de você e te educar; prefiro correr o risco de errar do que te abandonar". Este enunciado fundamenta-se no desejo de paternidade ou de maternidade. No limite, o adulto está dizendo: "eu assumo educar você porque eu quis ser seu pai (ou mãe, etc.)".

A recusa a correr esse tipo de risco coloca as crianças em estado de abandono. Não se trata necessariamente de um abandono amoroso. Pais extremamente afetivos podem deixar seus filhos à mercê de seus próprios impulsos, de sua fragilidade e de sua onipotência infantil, não por falta de amor, mas por falta de responsabilidade. O efeito é de abandono, porque a criança não pode arcar com o critério para as decisões dos adultos, como ocorre no caso de pais que só fazem o que os filhos "consentem".

Adaptado de Maria Rita Kehl. Disponível em: <https://www.fronteiras.com/leia/exibir/maria-rita-kehl-em-defesa-da-familia-tentacular>.

Acesso em: 01/11/2022.

Assumindo como ponto de partida essa reflexão, apresente seu ponto de vista, em um texto dissertativo-argumentativo **autoral**, entre 230 e 350 PALAVRAS, utilizando a norma-padrão da língua portuguesa, sobre a seguinte questão:

Administração | Ciências Econômicas | Ciências Contábeis

Confiança e autoridade na construção social contemporânea: é possível compatibilizar?

Observações:

1. NÃO é necessária ou ainda obrigatória a colocação de título na sua Redação.
2. Será eliminado o candidato que obtiver nota 0 (zero) na redação.

Vale lembrar que será atribuída nota ZERO à redação que:

- estiver em branco;
- fugir à modalidade de texto solicitada ou ainda ao tema proposto;
- não atender aos critérios dispostos nos quesitos de Conteúdo, Estrutura e Expressão;
- apresentar texto sob forma não articulada verbalmente (apenas com desenhos, números e palavras soltas ou em versos);
- apresentar qualquer sinal que torne possível a identificação do candidato;
- não atender aos requisitos definidos na grade de correção/máscara de critérios pela Banca Examinadora.
- representar cópia dos textos presentes no caderno de questões ou ainda transcrição de textos já existentes em outros domínios discursivos, configurando plágio;
- tiver intenção de ofender o processo de seleção como um todo ou quaisquer umas das partes nele envolvido.

LITERATURA

As questões 16 e 17 referem-se ao texto a seguir.

ANOITECER

É a hora em que o sino toca,
mas aqui não há sinos;
há somente buzinas,
sirenes roucas, apitos
aflitos, pungentes, trágicos,
uivando escuro segredo;
desta hora tenho medo.

É a hora em que o pássaro volta,
mas de há muito não há pássaros;
só multidões compactas
escorrendo exaustas
como espesso óleo
que impregna o lajedo;
desta hora tenho medo.

É a hora do descanso,
mas o descanso vem tarde,
o corpo não pede sono,
depois de tanto rodar;
pede paz — morte — mergulho
no poço mais ermo e quedo;
desta hora tenho medo.

Hora de delicadeza,
agasalho, sombra, silêncio.
Haverá disso no mundo?
É antes a hora dos corvos,
bicando em mim, meu passado,
meu futuro, meu degredo;
desta hora, sim, tenho medo.

Administração | Ciências Econômicas | Ciências Contábeis

■ QUESTÃO 16

Nas duas primeiras estrofes do poema, Drummond produz, por meio de orações adversativas, o efeito de contraste entre:

natureza animal e vida na cidade.

imagens idílicas e realidade urbana.

tempo cronológico e tempo espiritual.

práticas religiosas e a condição moderna.

■ QUESTÃO 17

O uso de anáforas e a presença constante da rima a partir do vocábulo "medo" adentram à temática do poema e à mensagem elaborada pelo poeta.

Esses recursos formais, na leitura do poema, produzem o efeito de:

identificar a presença da eternidade na rotina das pessoas.

marcar a rotina temporal e o cotidiano da vida moderna.

plasmar passado e futuro na vida contemporânea.

distanciar o leitor da vida cotidiana.

As questões 18 a 20 referem-se ao texto a seguir.**INVERNO**

1.º§ Fabiano passara semanas capiongo, fantasiando vinganças, vendo a criação definhar na catinga torrada. Se a seca chegasse, ele abandonaria mulher e filhos, coseria a facadas o soldado amarelo, depois mataria o juiz, o promotor e o delegado. Estivera uns dias assim murcho, pensando na seca e roendo a humilhação. Mas a trovoada roncara, viera a cheia, e agora as goteiras pingavam, o vento entrava pelos buracos das paredes.

2.º§ Fabiano estava contente e esfregava as mãos. Como o frio era grande, aproximou-as das labaredas. Relatava um fuzuê terrível, esquecia as pancadas e a prisão, sentia-se capaz de atos importantes.

3.º§ O rio subia a ladeira, estava perto dos juazeiros. Não havia notícia de que os houvesse atingido — e Fabiano, seguro, baseado nas informações dos mais velhos, narrava uma briga de que saíra vencedor. A briga era sonho, mas Fabiano acreditava nela.

4.º§ As vacas vinham abrigar-se junto à parede da casa, pegada ao curral, a chuva fustigava-as, os chocalhos batiam. Iriam engordar com o pasto novo, dar crias. O pasto cresceria no campo, as árvores se enfeitariam, o gado se multiplicaria. Engordariam todos, ele, Fabiano, a mulher, os dois filhos e a cachorra Baleia. Talvez Sinhá Vitória adquirisse uma cama de lastro de couro. Realmente o jirau de varas onde se espichavam era incômodo.

5.º§ Fabiano gesticulava. Sinhá Vitória agitava o abano para sustentar as labaredas no angico molhado. Os meninos, sentindo frio numa banda e calor na outra, não podiam dormir e escutavam as lorotas do pai. Começaram a discutir em voz baixa uma passagem obscura da narrativa. Não conseguiram entender-se, arengaram azedos, iam-se atracando. Fabiano zangou-se com a impertinência deles e quis puni-los. Depois moderou-se, repisou o trecho incompreensível utilizando palavras diferentes.

Administração | Ciências Econômicas | Ciências Contábeis

■ QUESTÃO 18

Em *Vidas secas*, Graciliano Ramos apresenta a vida de personagens sertanejos em sua luta por sobrevivência. A construção do narrador-observador, portanto, serve ao propósito de elaborar uma descrição da vida no sertão, assim como o de analisar os indivíduos que lá trabalham.

No 4º parágrafo, por exemplo, percebe-se que o narrador adentra à perspectiva de Fabiano, pois:

reafirma o caráter sonhador do personagem, já que sua família não possuía nada.

faz uso reiterado do futuro do pretérito, indicando as esperanças e sonhos do sertanejo.

apresenta a oposição do personagem aos sonhos de grandeza de sinhá Vitória, representado pela cama de couro.

organiza os períodos sem o uso adequado de conjunções, demarcando a falta de coesão no pensamento e na fala do sertanejo.

■ QUESTÃO 19

No último parágrafo da passagem, destaca-se um dos principais aspectos do romance:

a violência como única forma de construção de relações entre os personagens.

a denúncia à vida desumanizada do sertanejo sob a exploração do modelo econômico e do latifúndio.

a dificuldade de comunicação e de domínio da linguagem verbal por parte de personagens animalizados.

a perspectiva determinista que compõe a personalidade do sertanejo a partir de protótipos raciais e históricos.

Administração | Ciências Econômicas | Ciências Contábeis

■ QUESTÃO 20

Embora desenvolvam temáticas muito diferentes em seus textos, o poema de Drummond e o romance de Graciliano Ramos apontam para um traço comum à geração de escritores de que fazem parte:

a desconfiança dos procedimentos literários do passado.

o embate entre a vida humana e o capitalismo moderno.

a crítica ao modo de vida rural na sociedade moderna.

a denúncia da exclusão social dos mais pobres.

Administração | Ciências Econômicas | Ciências Contábeis

MATEMÁTICA E RACIOCÍNIO LÓGICO**■ QUESTÃO 21**

Os gráficos das funções reais f e g , de variáveis reais, definidas por $f(x) = 2^{x+1}$ e $g(x) = 6$ se intersectam no ponto $P(m, b)$.

O valor de m é igual:

$\log_2 3$

$\log_3 2$

2

$\frac{1}{2}$

■ QUESTÃO 22

Considere que os pontos $A(-2,1)$, $B(2,2)$, $C(0,-3)$ e $D(x,y)$ são vértices consecutivos de um paralelogramo.

O valor de $x + y$ é igual a:

-8.

-9.

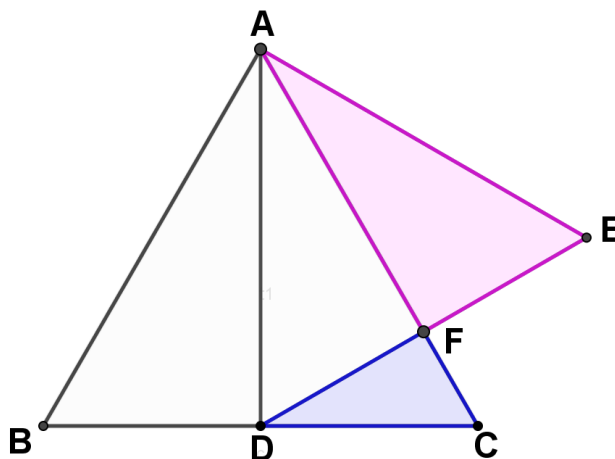
-10.

-11.

Administração | Ciências Econômicas | Ciências Contábeis

QUESTÃO 23

A figura a seguir representa os triângulos equiláteros ABC e ADE, sendo D o ponto médio do lado BC.



Se as áreas dos triângulos AFE e FCD são, em m^2 , respectivamente, p e q, a razão p/q é igual a:

3,5.

3,0.

$2\sqrt{3}$.

$3\sqrt{2}$.

QUESTÃO 24

Considere que a maior diagonal de um hexágono regular mede D metros.

Para determinar o perímetro desse hexágono, em metros, deve-se multiplicar D pelo seguinte número:

3.

4.

5.

6.

Administração | Ciências Econômicas | Ciências Contábeis

■ QUESTÃO 25

Admita que o piso salarial de um economista seja de x reais e que, no ano de 2022, esse valor sofreu um reajuste de 8%.

O piso salarial após o reajuste, em reais, é igual a:

(0,8)x.

(1,8)x.

(1,08)x.

(18)x.

■ QUESTÃO 26

Um grupo de 30 alunos está matriculado em uma faculdade em pelo menos um dos dois cursos seguintes: Administração e Ciências Contábeis.

Sabe-se que, ao escolher ao acaso um desses alunos, a probabilidade de ele estar matriculado nos dois cursos é $1/10$ e a probabilidade de ele estar cursando apenas Ciências Contábeis é $6/10$.

O total de alunos do grupo que estuda Administração é igual a:

9.

10.

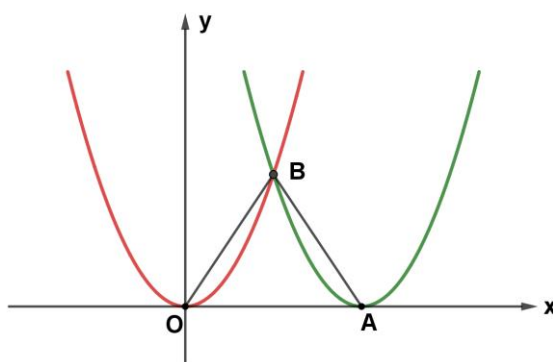
12.

18.

Administração | Ciências Econômicas | Ciências Contábeis

■ QUESTÃO 27

Os gráficos das funções reais f e g , de variáveis reais, definidas por $f(x) = x^2$ e $g(x) = (x - 3)^2$ são as parábolas da figura a seguir.



Se essas parábolas se intersectam no ponto B e têm vértices A e O, a área do triângulo OAB é igual a:

27/8.

27/4.

9/4.

9/2.

■ QUESTÃO 28

Um estacionamento recebeu apenas 102 veículos durante um dia, entre motos e carros. Com preço fixo, isto é, independentemente do tempo em que cada veículo ficou estacionado, arrecadou R\$ 15,00 por moto e R\$ 25,00 por carro, num total de R\$ 2.330,00.

Se, nesse dia, n foi o número de motos, a soma dos algarismos de n é igual a:

8.

6.

4.

2.

Administração | Ciências Econômicas | Ciências Contábeis

■ QUESTÃO 29

Uma aplicação financeira foi feita nos quatro primeiros meses do ano. A tabela a seguir apresenta os valores, em reais, dos juros recebidos em cada um desses meses.

Meses	Janeiro	Fevereiro	Março	Abril
Juros	720,00	p	560,00	q

Sabe-se que os valores dos juros de janeiro a abril estão nessa ordem, em progressão aritmética.

O valor de $p - q$, em reais, é igual a:

140.

150.

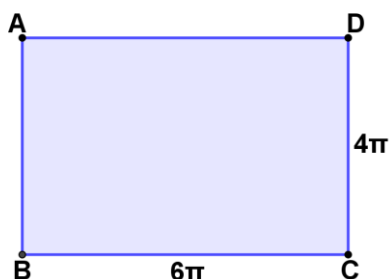
160.

170.

Administração | Ciências Econômicas | Ciências Contábeis

■ QUESTÃO 30

As planificações das superfícies laterais de dois cilindros retos, de volumes V e P metros cúbicos, são iguais ao retângulo ABCD que está indicado na figura a seguir.



Sabe-se que $V > P$ e a base e a altura desse retângulo medem, em metros, respectivamente, 6π e 4π .

A razão $\frac{V}{P}$ é igual a:

1,0.

1,5.

5/4.

8/3.

Administração | Ciências Econômicas | Ciências Contábeis

■ QUESTÃO 31

A tabela a seguir apresenta a quantidade de figurinhas de um álbum que os amigos A, B, C, D, E e F possuem.

Amigos	A	B	C	D	E	F
Quantidade de figurinhas	92	25	60	60	40	35

A mediana e a média aritmética da quantidade de figurinhas dos seis amigos são, respectivamente:

50 e 50.

50 e 52.

52 e 60.

52 e 54.

Administração | Ciências Econômicas | Ciências Contábeis

■ QUESTÃO 32

Quatro candidatos à eleição, A, B, C e D, participarão de uma entrevista em um programa de televisão. Considere que cada candidato irá apenas em um dia da semana, de segunda a sexta, e que, em cada dia, comparecerá somente um dos candidatos.

A tabela a seguir indica cinco distribuições diferentes dos candidatos nessa semana.

Dias da Semana	1. ^a distribuição	2. ^a distribuição	3. ^a distribuição	4. ^a distribuição	5. ^a distribuição
Segunda-feira	A		A	B	D
Terça-feira	B	A		A	C
Quarta-feira		D	B		B
Quinta-feira	C	C	C	C	A
Sexta-feira	D	B	D	D	

O número máximo de distribuições distintas que se pode formar é igual a:

24.

48.

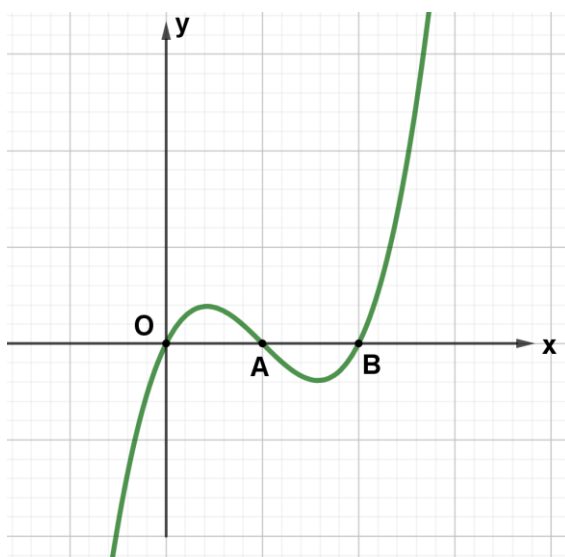
60.

120.

Administração | Ciências Econômicas | Ciências Contábeis

■ QUESTÃO 33

O gráfico a seguir representa a função polinomial P , de variável real, definida por $P(x) = x^3 + cx^2 + dx$, sendo c e d , constantes reais, e os pontos O , A e B suas intersecções com o eixo x .



Se $P(x)$ é divisível por $(x - 1)$ e por $(x - 2)$, o valor de $P\left(\frac{1}{2}\right)$ é igual a:

1.

1/2.

3/4.

3/8.

Administração | Ciências Econômicas | Ciências Contábeis

■ QUESTÃO 34Considere i a unidade imaginária dos números complexos.O valor de $\frac{(1+i)^2}{i^7}$ é igual a:

1.

2.

-1.

-2.**■ QUESTÃO 35**Sejam a e b dois números reais dados por:

$$a = -1 + \frac{1}{3} - 2 + \frac{1}{5} - 3 + \frac{1}{7}$$

$$b = 1 - \frac{1}{3} + 2 - \frac{1}{5} + 3 - \frac{1}{7}$$

O valor de $|a| + |b|$ é igual a:

0.

2a.

2b.

a + b.

Text 1

Brazil economic outlook

Disruptions caused by the war in Ukraine, coupled with inflation, have placed Brazil on an uneasy economic tide.

by Akrur Barua and Monali Samaddar

1st§

In the second half of 2020, after the devastating first wave of COVID-19, Brazil witnessed a rebound in economic activity, but then came subsequent waves of infection and surge in global inflation, which have dampened that recovery. And at present, after having recently exited recession in the fourth quarter of last year, Brazil's economy faces two stiff headwinds. First, private consumption growth is still relatively weak. Consumer confidence is subdued as inflation rises and unemployment remains high.

2nd§

This will likely thwart production and private investment. Second, external factors such as existing supply chain challenges because of the pandemic and the Russian invasion of Ukraine will likely weigh on the currency and global demand. Although Brazil has limited direct exposure to Russia and Ukraine in trade, it won't remain insulated from the conflict's impact on the global economy.

3rd§

Brazilian households are again witnessing a return to double-digit inflation. Headline inflation has been rising at more than 10% year over year since September 2021, which is double the upper limit of the Banco Central do Brasil's target range of 2.25 to 5.25% for 2021. Within the consumer basket, goods prices have experienced the highest increase due to rising demand for goods during the pandemic, higher input prices and production bottlenecks.

Administração | Ciências Econômicas | Ciências Contábeis

4th§

It's true that consumers will likely benefit from the continued improvement the labor market has witnessed since the first quarter of 2021, but labor force participation is still 1.4 percentage points lower than the pre-pandemic levels. And although unemployment has come down during this period, it is worth noting that even the pre-pandemic state of the labor market was much worse than the heydays of Brazil's fast-growing economy, which started in 2000. In December 2019, for example, the unemployment rate was 11.1% – much higher than the average annual figure of 6.3% in 2013, when the golden age of economy came to an end and Brazil's economy entered a period of broad economic contraction.

Adapted from: <https://www2.deloitte.com>. Accessed August 22, 2022.**■ QUESTÃO 36**

The purpose of the article is to:

deny the challenges of economic progress.

question the drawbacks to economic growth.

present the obstacles to economic development.

indicate the requirements for economic improvement.

■ QUESTÃO 37

“Although Brazil has limited direct exposure to Russia and Ukraine in trade, **it won't remain insulated from the conflict's impact on the global economy**” (2nd§)

The underlined fragment expresses a:

condition.

prediction.

proposition.

supposition.

Administração | Ciências Econômicas | Ciências Contábeis

■ QUESTÃO 38

"Within the consumer basket, goods prices have experienced the highest increase **due to** economic problems brought by the rising demand for goods during the pandemic, higher input prices and production bottlenecks". (3rd§)

The underlined expression introduces a:

cause.

contrast.

condition.

conclusion.

■ QUESTÃO 39

According to the last paragraph, the best period for the labor market was:

between 2000 and 2013.


right before the pandemic.

after the peak of the pandemic.

from the first quarter of 2021 on.

Administração | Ciências Econômicas | Ciências Contábeis

Text 2

Taken from: <https://media-cldnry.s-nbcnews.com>. Accessed August 22 2022.

■ QUESTÃO 40

The cartoon portrays the following problem related to Economy:

- low skilled workers.
- bad working conditions.
- fake job advertisements.

high unemployment rate.

QUESTÃO 41

Disponível em: <http://www.ppghsuerj.pro.br> . Acesso em 05 set 2022.

O mapa do Brasil de 1556 é de autoria de Giacomo Gastaldi.

A atividade representada na imagem se refere à seguinte prática da época:

livre comércio.

tráfico negreiro.

escambo indígena.

trabalho compulsório.

Administração | Ciências Econômicas | Ciências Contábeis

■ QUESTÃO 42Disponível em: <https://www1.folha.uol.com.br>. Acesso em 05 set 2022.

As causas para as alterações observadas nos mapas da América do Sul foram:

desigualdade social e pobreza material.

subordinação cultural e limitação tecnológica.

emancipação política e fragmentação territorial.

dependência econômica e instabilidade institucional.

Administração | Ciências Econômicas | Ciências Contábeis

■ QUESTÃO 43

Pode-se sugerir que uma teoria que associa o crescimento ao colapso do comércio agrada aos sentimentos nacionalistas, pois implica que as fontes estrangeiras de suprimentos não são merecedoras de confiança e que a produção nacional é capaz de aceitar qualquer desafio. Além disso, uma teoria assim é útil aos intelectuais e burocratas brasileiros urbanos por demonstrar às elites econômicas recalcitrantes a inevitabilidade da industrialização. Os escritos de Celso Furtado, por exemplo, estão prenhes dessa mensagem.

DEAN, Warren. *A industrialização de São Paulo*. São Paulo, DIFEL/EDUSP, 1971, p. 108.

No texto, o autor critica um processo usado como explicação para a industrialização durante a Primeira República.

A explicação criticada é denominada:

fuga de capitais.

dirigismo estatal.

choques adversos.

substituição de importações.

■ QUESTÃO 44

Cem anos depois da chegada do líder fascista ao poder, o culto a Benito Mussolini se mantém intacto entre o povo de Predappio, onde nasceu e foi enterrado. Seu túmulo, localizado na cripta da capela da sua família, atrai dezenas de milhares de visitantes todos os anos.

Nostalgia ou curiosidade, muitas pessoas transitam diante dos restos mortais de "il Duce", cujo legado segue forte no partido Irmãos da Itália, comandado por Giorgia Meloni.

Disponível em: <https://oglobo.globo.com/>. Acesso 05 set 2022.

Uma característica comum ao regime de Mussolini e ao partido político citado é o:

corporativismo sindical.

nacionalismo exacerbado.

neoliberalismo pragmático.

protecionismo alfandegário.

Administração | Ciências Econômicas | Ciências Contábeis

■ QUESTÃO 45

Um dos personagens mais icônicos da sociedade americana entrará em domínio público em breve. Mickey Mouse, ratinho que fez sua estreia nos desenhos em 1928 e logo se tornou o símbolo da The Walt Disney Company — e sinônimo do poder dos Estados Unidos —, vai deixar de ser exclusivo da empresa em 2024. De acordo com a atual lei de propriedade intelectual do país, personagens e outros trabalhos artísticos deixam de ser exclusividade de quem os criou depois de 95 anos de sua concepção. Na prática, outras pessoas e empresas poderão usar Mickey Mouse em suas próprias histórias — e não apenas nas telas.

Disponível em: <https://www1.folha.uol.com.br/>. Acesso em 05 set 2022.

A perda da exclusividade dos direitos econômicos sobre a criação artística abordada no texto revela que, ao longo do tempo, a propriedade intelectual pode se tornar:

patrimônio cultural.

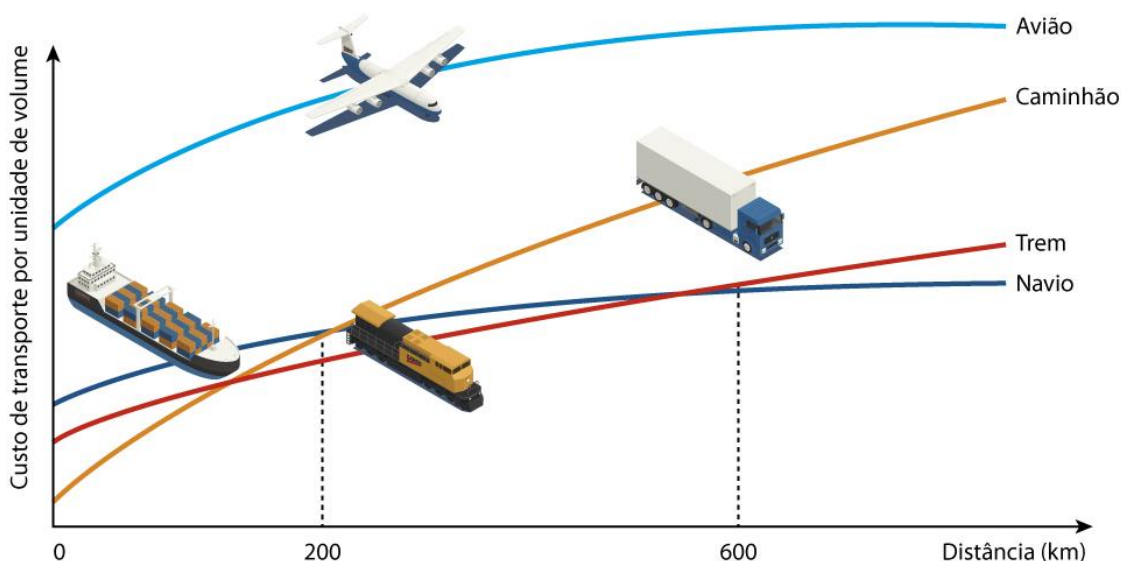
herança contestada.

legado desmonetizado.

mitologia internacional.

■ QUESTÃO 46

Variação do custo de transporte com a distância



Comparativo dos Modais de Transporte



QUINN, Alexander. *Logistics Planning WFP Logistics, We Deliver*, 2018. Disponível em: <https://slideplayer.com>. Acesso em 29 ago. 2022.

A partir dos gráficos, o meio de transporte mais barato para transportar pequenas cargas, a curta distância e com rapidez, é o:

aeroviário.

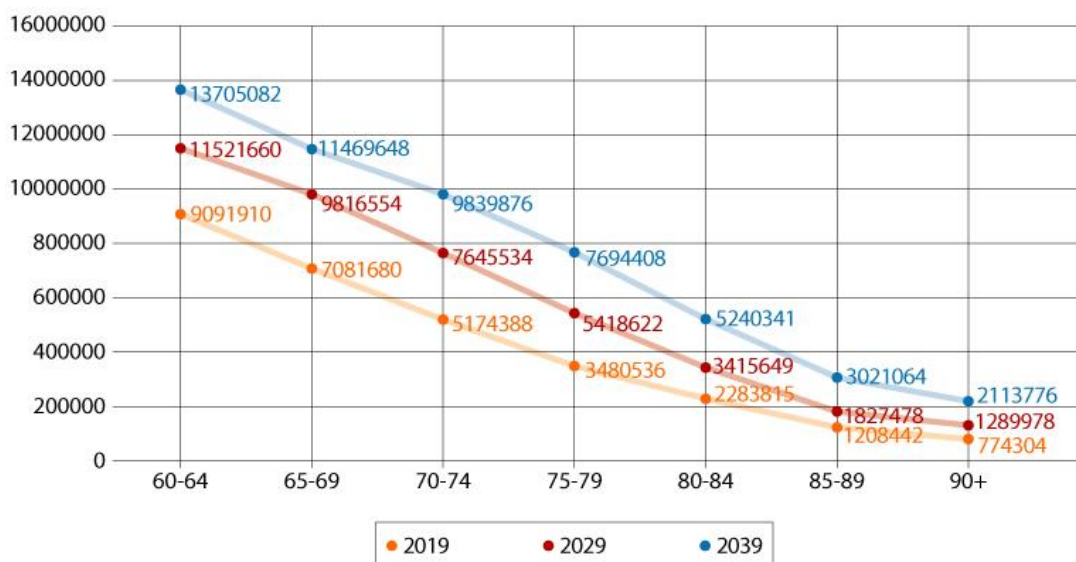
rodoviário.

ferroviário.

aquaviário.

QUESTÃO 47

Projeção total de idosos no Brasil (2019-2039)



ARRAIS, Tadeu e VIANA, Juheina. *Pequeno atlas da tragédia previdenciária brasileira*. Goiânia: IESA/Gráfica da UFG, 2019. p.35.
Disponível em: <https://files.cercomp.ufg.br>. Acesso em 28 mai. 2019.

Considere a projeção para o ano de 2039 e o momento do Brasil na transição demográfica. Uma consequência do processo apresentado no gráfico é a redução do seguinte indicador:

- desigualdade social.
- entrada de imigrantes.
- população escolarizada.

quantidade de trabalhadores.

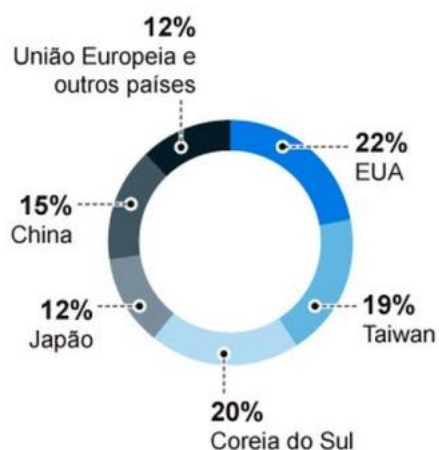
■ QUESTÃO 48

Vários países estão tirando do papel planos com subsídios bilionários em uma tentativa de nacionalizar a sua produção de chips, esses pequenos componentes presentes em uma série de produtos, como: celulares, computadores, eletrodomésticos, automóveis e até máquinas pesadas e armamentos.

Na semana passada, o presidente dos EUA, Joe Biden, assinou um decreto para impulsionar o desenvolvimento e a produção desses componentes no território americano. Boa parte da tecnologia por trás dos chips é americana, mas sua produção sempre foi descentralizada.

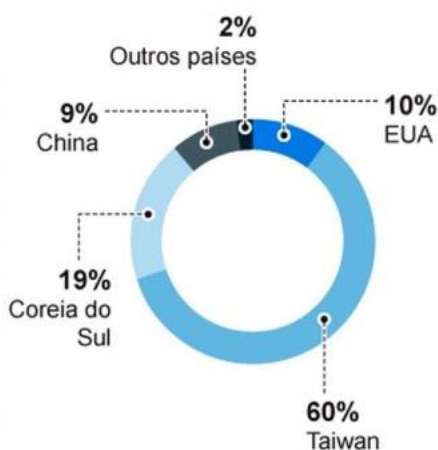
Distribuição da capacidade de produção no mundo

(2020)



Participação no fornecimento global

(2019)



Adaptado de COSTA, Vitor. *O Globo*, 21 de agosto de 2022. Disponível em: <https://oglobo.globo.com>. Acesso em 22 ago. 2022.

A implementação dos planos mencionados se deve à preocupação com uma interferência sobre as redes produtivas globais.

Essa interferência está apontada em:

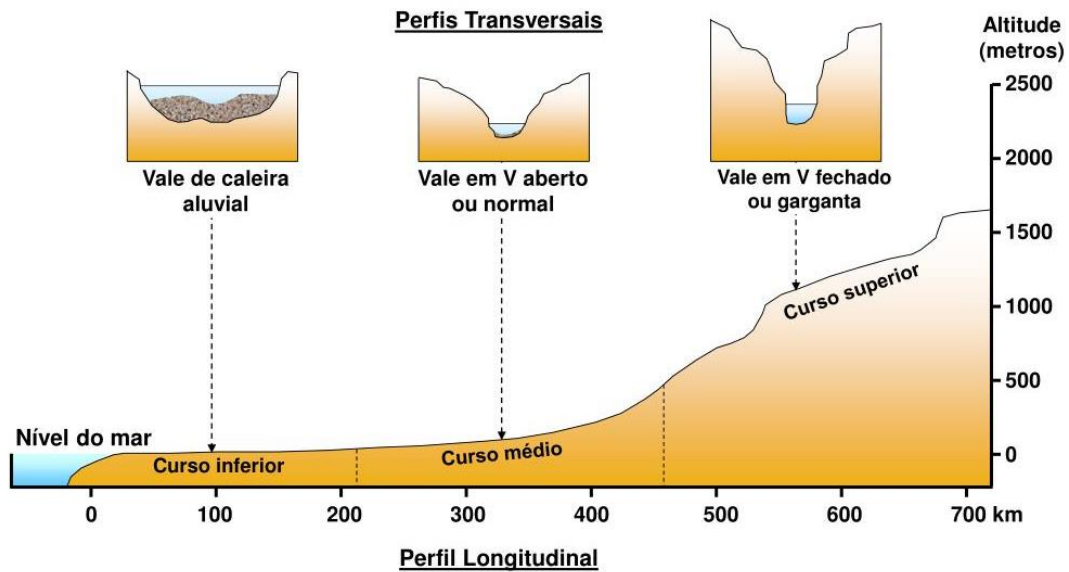
declínio da qualidade industrial.

crescimento dos riscos geopolíticos.

flexibilização do protecionismo comercial.

endurecimento das legislações trabalhistas.

Administração | Ciências Econômicas | Ciências Contábeis

■ QUESTÃO 49**Perfis de um rio**Disponível em: <https://www.slideserve.com>. Acesso em 14 set. 2022.

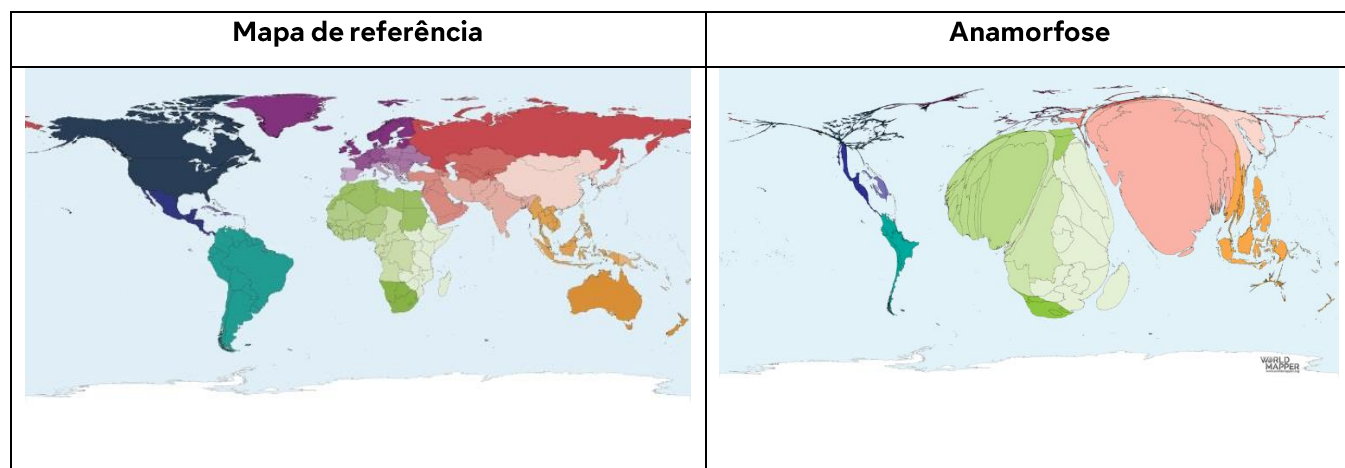
A forma físico-natural tipicamente encontrada no curso superior desse rio está representada em:



Administração | Ciências Econômicas | Ciências Contábeis

■ QUESTÃO 50

O cartograma em anamorfose representa cada unidade de área em proporção à grandeza de uma determinada informação ou dado numérico.

Disponível em: <https://worldmapper.org>. Acesso em 20 ago. 2022.

A anamorfose acima representa a seguinte grandeza referente à população mundial:

pobreza absoluta.

obesidade infantil.

refugiados ambientais.

trabalhadores industriais.